

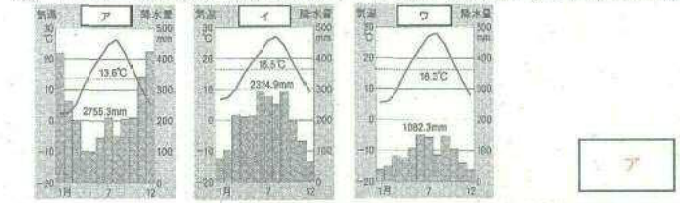
4 附属さんは、社会科の授業で日本を支える産業について調べ学習を行い、レポートにまとめました。下の文章を読んで、あとの問いに答えなさい。

「日本を支える産業」 ©2021/2/1 附属太郎

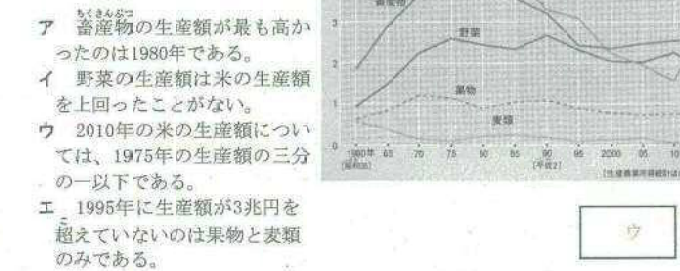
かつてA日本は、新潟県の米づくりに見られるように、農業によって成り立っていましたが、B工業化が進むにつれて、さまざまな機械製品の輸出によって経済発展を進めていきました。なかでも日本車は、性能が良い、乗りごころが良いなどの理由で世界の人々にも人気があり、Cたくさんの自動車輸出されました。

また、最近ではより良い自動車をつくるために、Dインターネットを利用したカーナビゲーションシステムや燃料電池など新しい技術が次々と生み出されています。技術が発展し、情報化する社会のなかで、自動車がどのように変化していくのか、多くの人が注目しています。


(1) 下線部Aの日本の農業について、①・②に答えなさい。



② 右のグラフは日本の主な農産物の生産額の変化に関するものです。グラフについて正しく読み取っているものを、次のア～エの中から選び、記号で答えなさい。



(2) 下線部Bに関連した下のグラフを見て、中京工業地帯の輸出品の上位3つの正しい組み合わせを、あとのア～エの中から選び、記号で答えなさい。



(3) 下線部Cに関連した右の地図を見て、自動車にはどのような輸送方法があるか、箇条書きで全て答えなさい。



(4) 下線部Dについて、①・②に答えなさい。

① インターネットや新聞など、情報を伝える方法や手段のことを何というか、カタカナ四文字で答えなさい。

② インターネットは便利ですが、さまざまな問題を引き起こすこともあります。下のイラストはどのような危険性を示しているか説明しなさい。

個人情報がインターネット上に流出してしまう可能性がある。

5 附属さんは、ニュース番組を見ていて、世界のできごとが日本の社会に大きな影響を与えていることに気がつきました。それをもとに、社会科の山口先生と話をしています。

附属さん「ニュースを見てると、日本国内のことだけでなく、外国のできごとでもよく取り上げられていることに気がつきました。日本が外国と関係をもつようになったのはいつごろのことなのでしょう。」

山口先生「日本はまわりが海で囲まれており、外国と離れているように見えますが、昔から多くの交流がありました。小学校で勉強したことを思い出してみましょう。」

附属さん「そういえば、E聖武天皇が命令した大仏づくりでは、仏像や大仏殿をつくる技術をもつF大陸から来た人々の子孫が活躍したことを前に勉強しました。」

山口先生「そうですね。探してみれば、他にもたくさん見つかるはずです。時には、G外国との関係を制限したこともありましたが、歴史をふりかえてみると、日本の社会がどれほど外国の影響を受けてきたかが分かるはずです。」

附属さん「ありがとうございます。家に帰ってから、これまでに勉強したことの中で、H外国と関わりのあったものをノートに整理してみます。」

山口先生「それはいいですね。今度、整理したノートを見せてくださいね。」

(1) 会話文中の下線部Eについて、①・②に答えなさい。

① 聖武天皇が国ごとに建てるように命令した寺を何というか答えなさい。

② 聖武天皇が大仏をつくるように命令した理由を説明しなさい。

全国各地で災害や反乱がおきたり、伝染病が流行したりして、社会全体の不安が高まっていたため、仏教の力でしずめようとした。

(2) 会話文中の下線部Fについて、このような人々を何というか答えなさい。

(3) 会話文中の下線部Gについて、江戸時代のはじめは外国との貿易がさかんでしたが、徐々に幕府は貿易を制限していき、日本は「鎖国」と呼ばれる状態になりました。江戸幕府が外国との交流を制限した理由を、右の資料にふれて、説明しなさい。

キリスト教の信者が幕府の命令に従わず、島原・天草一揆のような反乱を起こす可能性があったため。

(4) 会話文中の下線部Hにあるように、附属さんは家に帰ってから、日本と外国の関わりについて、代表的なものを次の表にまとめてみました。次の表を見て、①～③に答えなさい。

1	モンゴル帝国のフビライ・ハンは日本を従えようと使者を何度も送ってきましたが、人物Iはその要求を退けました。
2	人物Jはイギリスを相手に交渉を行い、条約の一部を改正し、領事裁判権をなくすことに成功しました。
3	聖徳太子は、進んだ制度や文化、学問を取り入れるため、人物Kを使者として隋(中国)に送りました。
4	アメリカ合衆国の使者であるペリーが来航し、翌年には日米和親条約を結びました。

① 表中のI～Kにあたる人物を次のア～カの中から選び、記号で答えなさい。

ア 小村寿太郎 イ 北条時宗 ウ 小野妹子
 エ 北条政子 オ 陸奥宗光 カ 鑑真 I I J オ K ウ

② 表の1～4のできごとの中で、その後すぐに相手国との関係が悪化して、戦いに発展したものを選び、数字で答えなさい。

③ 表の1～4のできごとを時代の古い順に並べかえて、答えなさい。

3 → 1 → 4 → 2