


1 次の文章を読んで、あとの問いに答えなさい。



(1) 本文中(Ⅰ)、(Ⅱ)にあてはまる言葉を次のア～エの中からそれぞれ選び、記号で答えなさい。

- ア だから
- イ しかし
- ウ そして
- エ つまり

Ⅰ
Ⅱ

(2) A ——だとと言えるのはなぜか。④段落の例を使って答えなさい。

(3) ⑥・⑧段落には二つの言葉が表しているものにふれながら説明しなさい。これらの言葉が書かれています。これらは、読み手にとってどのような効果がありますか。

(4) B ——の具体例としてふさわしいものを次のア～エの中から一つ選び、記号で答えなさい。

- ア 夜におかしを食べてはいけけないと言われたので、理由はわからないと言われた通りにした。
- イ 夜におかしを食べてはいけけないと言われ、「なるほど」と思い、こっそりおかしを食べようとした妹をとめた。
- ウ 夜におかしを食べてはいけけないと言われ、おかしを食べずにカップラーメンを食べた。
- エ 夜におかしを食べてはいけけないと言われたのに、おかしを食べ続けたら体調をくずしてしまい、「夜におかしを食べてはいけけない」と言われた意味が初めてわかった。

2 次の問いに答えなさい。

(1) ——線部のカタカナは漢字に、漢字はひらがなになおしなさい。

- ① 兄の努力にカンシした。
- ② 辞書よりアツい本を読む。
- ③ キばらしに海に行く。
- ④ パーティーにショウタイする。
- ⑤ フクザツな事情がある。

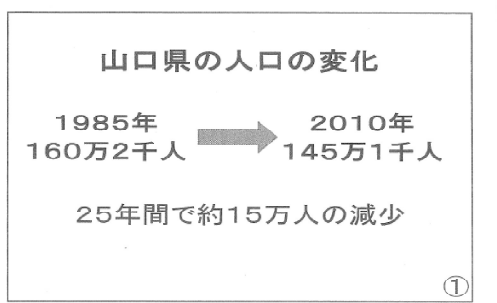
⑤	④	③	②	①
		らし	い	

- ⑥ 細部にわたって点検する。
- ⑦ 船着き場に行く。
- ⑧ 絵画をながめる。
- ⑨ 宮中の行事。
- ⑩ 伝票に記入する。

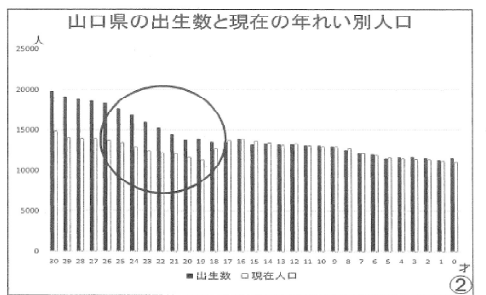
⑩	⑨	⑧	⑦	⑥
			れ	

(2) 次の文は、伝わりにくく誤解を生む可能性があります。どのような意味が考えられるか二つ説明しなさい。  
 「兄は現在、外出していません。」

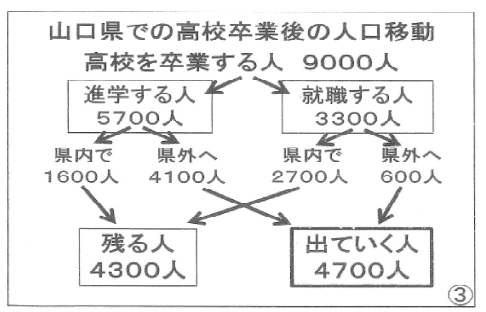
③ 次の資料は、白石さんが「山口県の未来を考える」というテーマで発表するために考えた台本です。それぞれのスライドと文章をもとに、あとの問いに答えなさい。



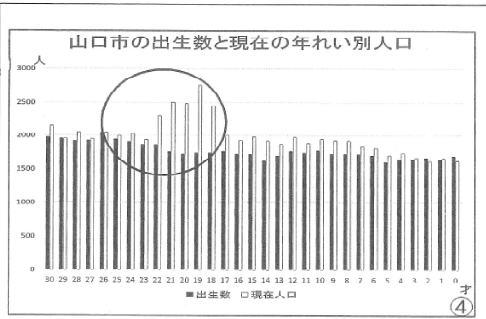
① 山口県の人口は、1985年からの25年間で約15万人減少しています。この減少は、山口県の大きな課題となっています。



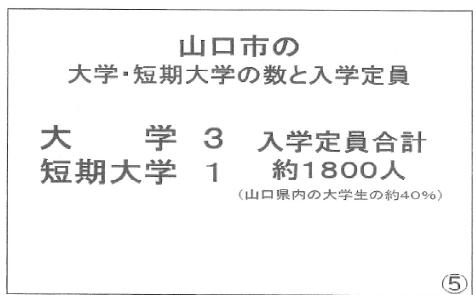
② たとえば、山口県で生まれた19才の人は約14,000人ですが、現在山口県にいる19才の人は約12,000人です。つまり、19才からの現人口が出生数を大きく下回っているということです。



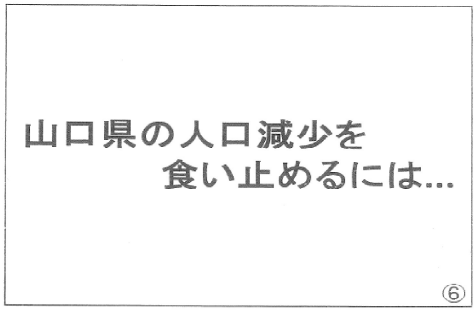
③ このころは、高校を卒業した後、就職・進学をする時期です。山口県では9,000人が高校を卒業しますが、そのうち4,700人が県外へ出ていきます。



A



⑤ その答えには、山口市に大学・短期大学があることが関係しています。山口市には毎年約1,800人の19才ころの若い人が集まるということなのです。しかし、高校生と同じく、大学生も卒業後は山口市に残らないことが先ほどのグラフからわかります。



⑥ このことから、山口県の人口減少を食い止めるカギは、高校生や大学生が山口県に残るようにすることだとわたしは考えます。そのためには、

B  
 がさらに求められます。

(1) Aにふさわしい文章を、「山口市の出生数と現在の年れい別人口」のグラフと発表の流れに合うように書きなさい。

(2) 発表全体のまとめとして、Bにはどのような提案があたりまますか。次のア～オの中から二つ選び、記号で答えなさい。

- ア 山口県内に、み力ある大学や学部をつくること
- イ 子育てがしやすいかん境の整備をすること
- ウ 高校生や大学生に山口県内の会社をしようかいすること
- エ 山口県の日本海側に働く場所をつくること
- オ 県内各地の交通もうをじゅう実させること


令和二年度	国語・社会 (その3)	受検番号		氏名
-------	-------------	------	--	----

4 校内放送の原こう案と先生からのコメントを読んで、あとの問いに答えなさい。

校内放送の原こう案 放送委員 (6年1組 大内たろう)  
 みなさん、おはようございます。今日はひなん訓練があります。わたしたちの住む日本は地震などの自然災害が多い国です。昨年①台風による大雨によって、多くの地域が被害にあいました。ひなん訓練はわたしたちの命を守るために必要な訓練です。「おはしも」を忘れずに、真げんに取り組みましょう。

先生からのコメント  
 すばらしい原こうです。大内さんがしっかり勉強してきたことが伝わります。でも、自然災害以外に、②人間が起こす悲しい問題もあること、また、自然災害ばかりでなく、③日本は豊かな自然にめぐまれていること、人々は努力して④問題を解決しようとしていることも忘れてほしいと思います。

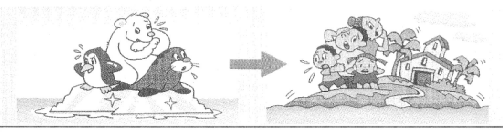
(1) 下線部①によって発生する自然災害を防ぐためのし設を次の写真からすべて選び、写真の下の( )に○をつけなさい。




(2) 下線部②に関する下の表をみて、自地図にある県を選び、その位置を黒くぬりつぶしなさい。

水俣病 場所: 熊本県 原因: 水銀	新潟水俣病 場所: 新潟県 原因: 水銀	
四日市ぜんそく 場所: 三重県 原因: 亜硫酸ガス	イタイイタイ病 場所: 富山県 原因: カドミウム	

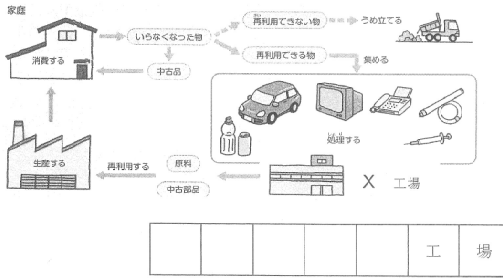
(3) 下線部③の一つとして、下の二枚の絵のようなことが起きています。ここにえがかれていることについて、これらを引き起こす原因にふれながら、説明しなさい。



(4) 下線部④の一つとして、国土にしめる森林の割合が高いことがあげられます。森林には「自然林」と「人工林」がありますが、「人工林」は次の二枚の写真のどちらか、写真の下の( )に○をつけなさい。また、その写真を選んだ理由を説明しなさい。



(5) 下線部④の一つとして、下の図のようなしくみがあります。Xの工場を何というか、カタカナ五文字で答えなさい。



5 山口さんは、夏休みの自由研究で、「武士の活やく」について調べました。資料をみて、あとの問いに答えなさい。

源頼朝 織田信長  
 ( ) に敗れて伊豆 (静岡県) 尾張 (愛知県) の小さな大名だったに流されていたが、180年に平氏をたが、今川氏や武田氏に勝利し、1576おそうと兵をあげた。年には安土城を築いた。

(1) ( ) に入る語句を、次のア〜エの中から一つ選び、記号で答えなさい。

- ア 長篠の戦い
- イ 平治の乱
- ウ 一谷の戦い
- エ 保元平治の乱

(2) 源氏や平氏について説明した次のア〜エの中から、正しいものをすべて選び、記号で答えなさい。

- ア 平氏一族は幕府をつくり、政治を思うままに動かしたので、しだいに貴族やほかの武士たちの間で不満が高まっていった。
- イ 源頼朝の弟の源義経たちに率いられた源氏は、平氏を西国に追いつめ、壇ノ浦ではろぼした。
- ウ 源頼朝は、家来になった武士たちに先祖からの領地を認めたり、手がらを立てた武士には新しい領地をあたえたりした。
- エ 平清盛は、武士として初めて征夷大将軍の地位につき、中国との貿易を進めることで、大きな力をもった。

(3) 安土城の城下町に多くの人々が集まった理由を、織田信長が行った政策にふれながら、説明しなさい。

(4) 織田信長は商工業で栄えていた堺を支配下におくことで、豊富な資金を手に入れた。2019年に堺から世界遺産に登録されたものを次のア〜ウの中から一つ選び、記号で答えなさい。



6 瀬田さんは、第二次世界大戦の様子をえがいた映画をみて、アジアや太平洋に戦場が広がっていったことを年表にまとめました。あとの問いに答えなさい。

年代	できごと	写真 東南アジアで戦う日本軍
1937年	日中戦争がおこる	
1941年	日本軍が東南アジアのマレー半島をこうげきする 日本軍がハワイのアメリカ軍基地をこうげきする	
1945年	広島・長崎に原子爆弾が落とされる	

(1) 日本軍が東南アジアに軍隊を進めた理由を、写真を参考にして、説明しなさい。

(2) 1945年につくられた、国際社会の平和を守るための組織を漢字四文字で答えなさい。

(3) 戦後の日本について説明した次の文章のうち、誤っているものを次のア〜ウの中から一つ選び、記号で答えなさい。

- ア 1951年にアメリカで開かれた講和会議で平和条約が結ばれ、翌年に日本は独立を回復し、あわせて沖縄も返かんされた。
- イ 1964年にアジアで初めてのオリンピックが東京で開かれ、高速度路や新幹線なども整備された。
- ウ 1968年には国民総生産額がアメリカに次いで世界第二位となったが、そのかげで水俣病などの公害が発生していた。